

2017-2018 SARRERA PROBAK PRUEBAS DE ACCESO 2017-2018

A2: ARMONÍA


1) Indica el intervalo



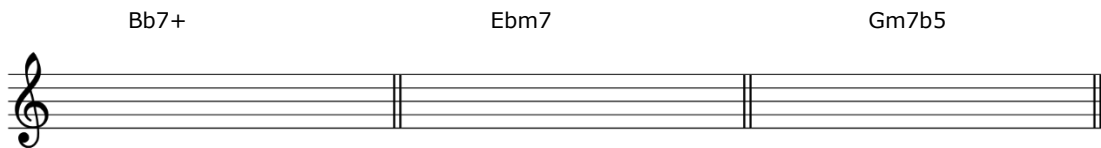
2) Escribe la nota que falta para completar los intervallos



3) Escribe el cifrado de los siguientes acordes




4) Escribe las notas de los siguientes cifrados




5) Analiza la progresión armónica y escribe la escala correspondiente y su nombre, tal y como figura en el primer acorde

FMaj7 D7 Gm7 C7



IMaj7 mayor o jónica

Dm7 % GbMaj7 FMaj7



IMaj7 mayor o jónica