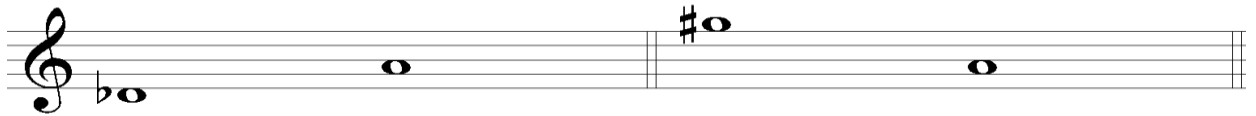




## A2: ARMONÍA


1) Indica el intervalo



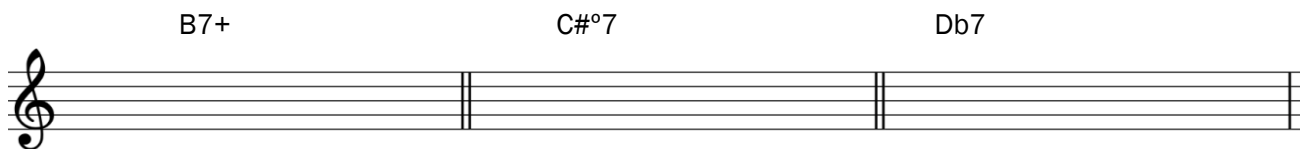
2) Escribe la nota que falta para completar los intervalos



3) Escribe el cifrado de los siguientes acordes



4) Escribe las notas de los siguientes cifrados



5) Analiza la progresión armónica, indicando también la escala correspondiente y su nombre, tal y como figura en el primer acorde

AbMaj7                      C7                      Fm7                      Dbm7

Bbm7                      Eb7                      AbMaj7                      %